


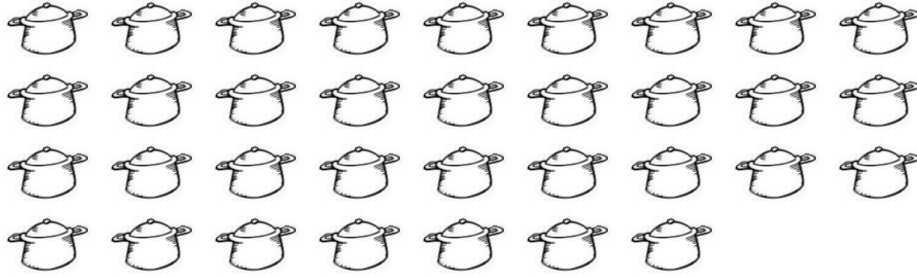
## 75. YIL İLKOKULU 2. SINIFLAR NESNE SAYISINI BULMA ÇALIŞMASI-2

🌈 Aşağıdaki varlıkları sayarak kaç tane olduklarını yanlarına rakam ve yazıyla yazınız.




Rakamla:.....

Yazıyla: .....



Rakamla:.....

Yazıyla: .....



Rakamla:.....

Yazıyla: .....

🌈 Aşağıdaki yüzlük tabloda eksik bırakılan sayıları yazalım.

1	2				6				
								19	
						27			
31									
			54						
									70
				75					
	92								


Yandaki yüzlük tabloda koyu çerçeve ye ayrılmış bölümü , yandaki tabloya tekrardan yukarıdan aşağıya doğru sıralayarak yazınız. Bakmadan sayana kadar çalışınız.